



<b>②-1 3・4・5年</b> 太陽と地面の様子 天気の様子 天気の変化	年	組	番
	名前		

さぶろう  
 三郎さんは、5月20日の1日の太陽の位置と木のかげの動きや長さを調べました。下の3枚の図はその時のようすです。


午前9時



正午

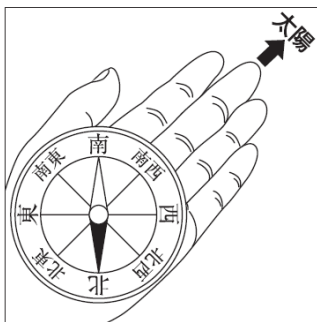


午後1時

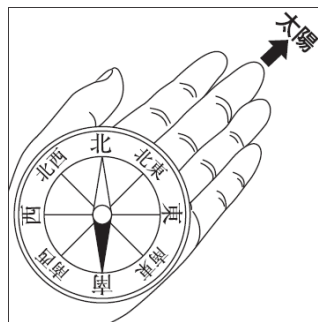


(1) 午後1時の太陽の方位を、正しく調べているのはどれですか。下の **1** から **4** までの中から1つ選んで、その番号を書きましょう。また、その時の太陽の方位を書きましょう。

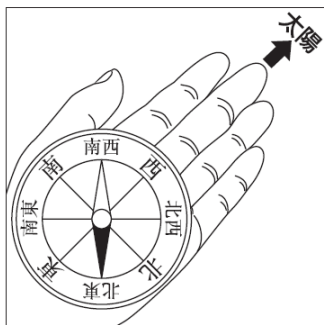
1



2



3



4

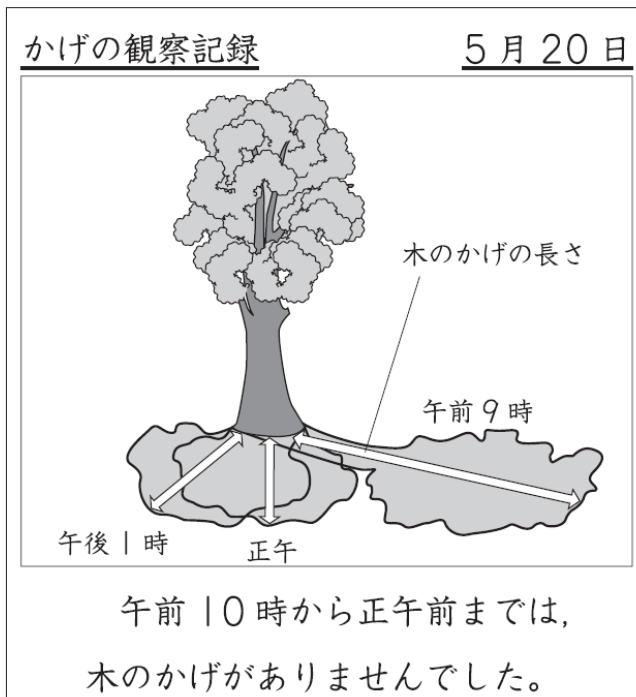


番号
----

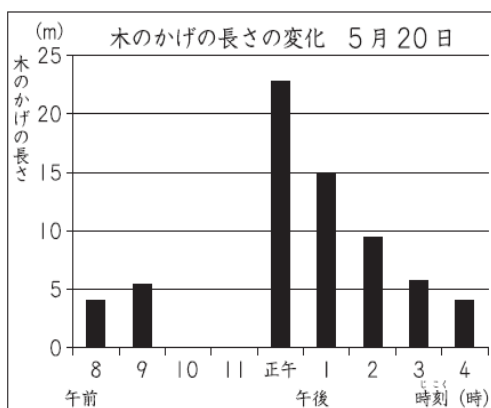
方位
----

(3) 三郎さんは、右のように観察記録をまとめました。

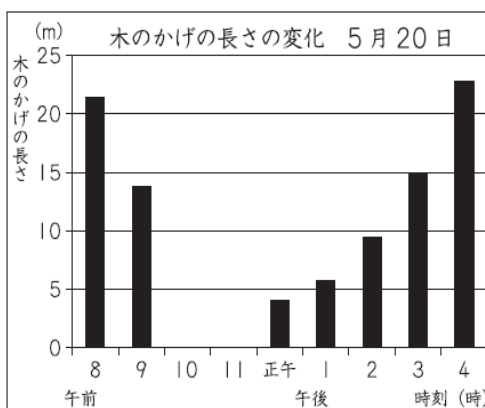
この日の木のかげの長さの変化をまとめたグラフはどれですか。下の **1** から **4** までの中から一つ選んで、その番号を書きましょう。



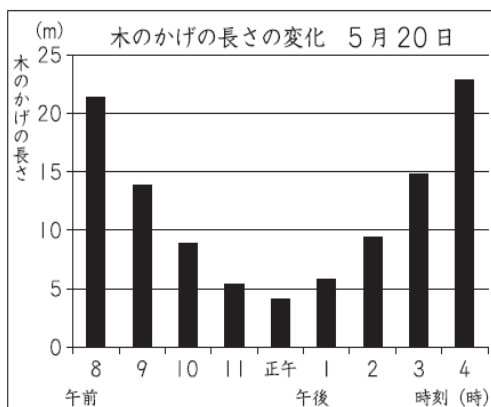
**1**



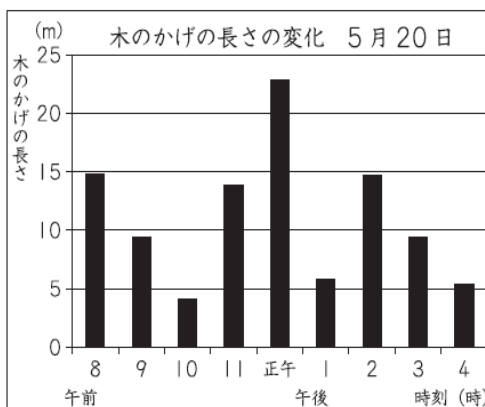
**2**



**3**




**4**



(4) 三郎さんは、同じ日の午前11時の空のようすを、写真にとりました。

午前10時から正午前までは、木のかげがなかったことから考えると、三郎さんがとった写真はどれですか。下の **1** から **4** までの中から1つ選んで、その番号を書きましょう。



**1**




細かい雲が見られた。

**2**



線のようなうすい雲が見られた

**3**



はいろいろ  
灰色がかった厚い雲が見られた。

**4**

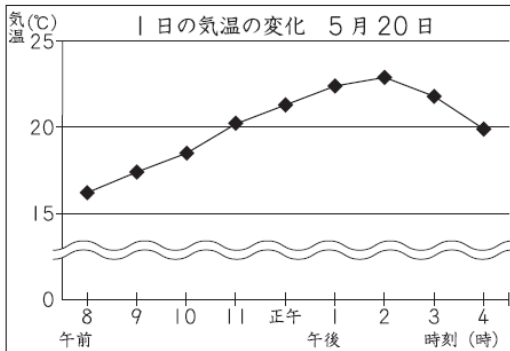


綿のような雲が見られた。

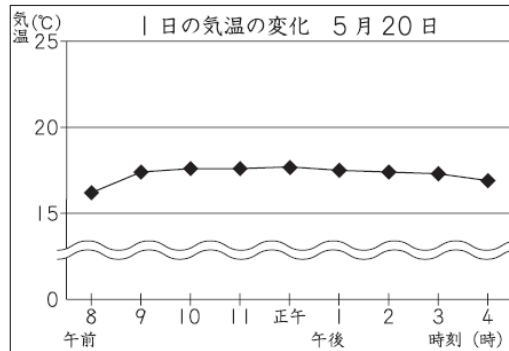
(5) 三郎さんは、同じ日に気温をはかりました。

この日のかげのようすから1日の天気を考えると、気温の変化を表したグラフはどれですか。下の **1** から **4** までの中から1つ選んで、その番号を書きましょう。また、その番号を選んだわけを書きましょう。

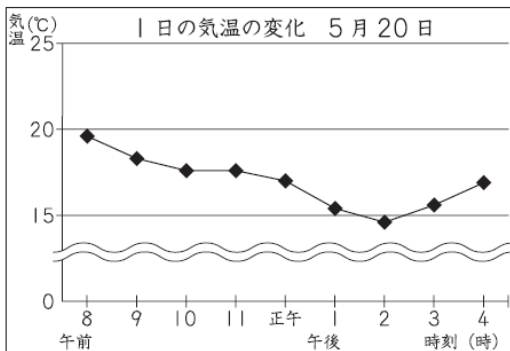
**1**



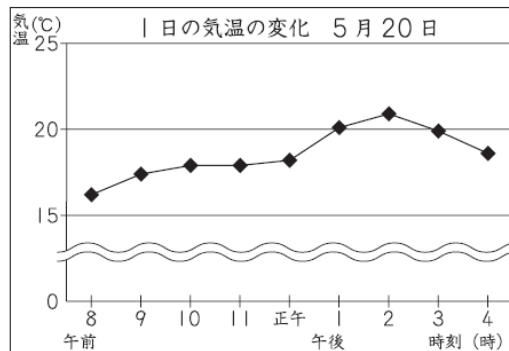
**2**



**3**



**4**




番号

選んだわけ


<b>②-1 3・4・5年</b> 太陽と地面の様子 天気の様子 天気の変化	年	組	番
	名前		

さぶろう  
 三郎さんは、5月20日の1日の太陽の位置と木のかげの動きや長さを調べました。下の3枚の図はその時のようすです。


午前9時



正午

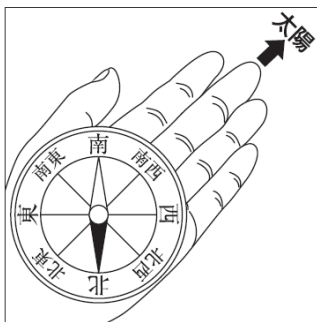


午後1時

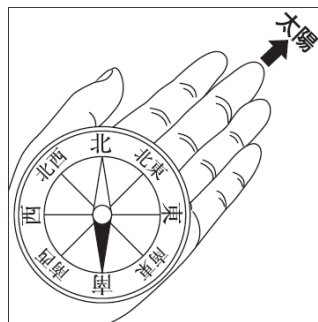


(1) 午後1時の太陽の方位を、正しく調べているのはどれですか。下の **1** から **4** までの中から1つ選んで、その番号を書きましょう。また、その時の太陽の方位を書きましょう。

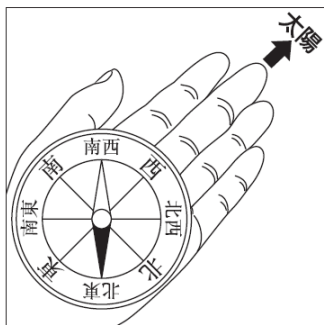
1



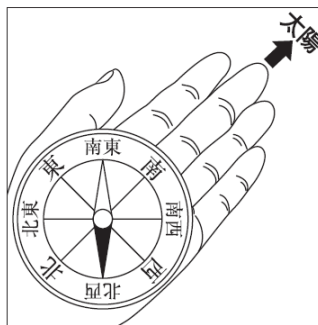
2



3



4



番号 **1**

方位 **南西**

(3) 三郎さんは、右のように観察記録をまとめました。

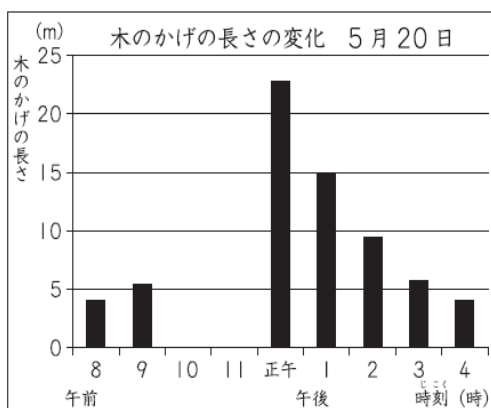
この日の木のかげの長さの変化をまとめたグラフはどれですか。下の **1** から **4** までの中から1つ選んで、その番号を書きましょう。

**2**

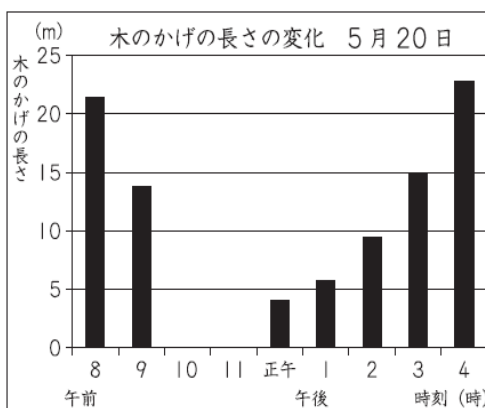
かげの観察記録 5月20日

午前10時から正午前までは、  
木のかげがありませんでした。

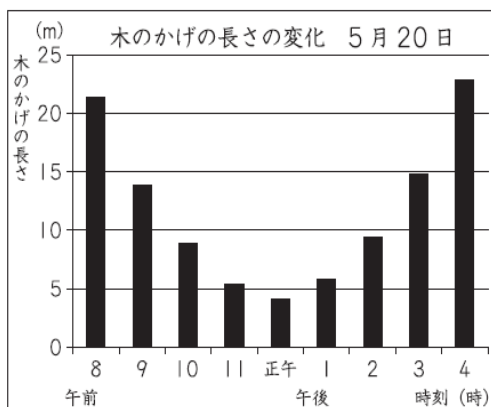
**1**



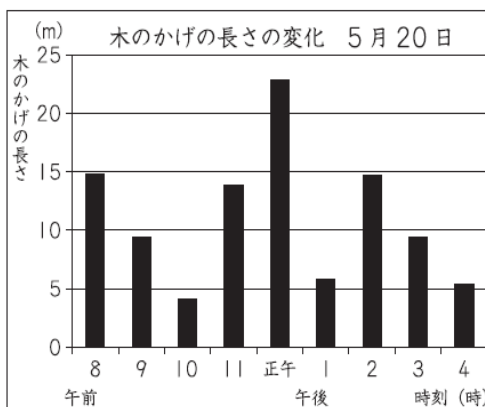
**2**



**3**




**4**



(4) 三郎さんは、同じ日の午前11時の空のようすを、写真にとりました。

午前10時から正午前までは、木のかげがなかったことから考えると、三郎さんがとった写真はどれですか。下の **1** から **4** までの中から1つ選んで、その番号を書きましょう。



**1**




細かい雲が見られた。

**2**



線のようなうすい雲が見られた

**3**



はいろいろ  
灰色がかった厚い雲が見られた。

**4**

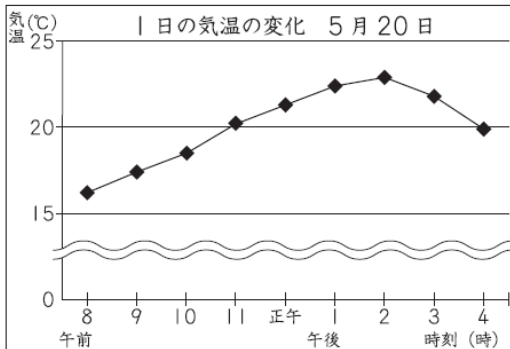
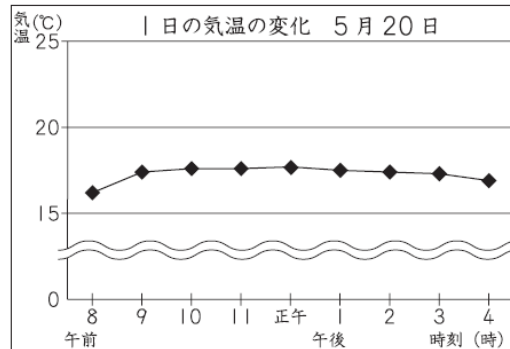
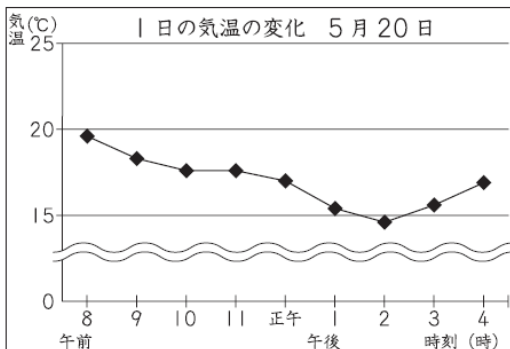
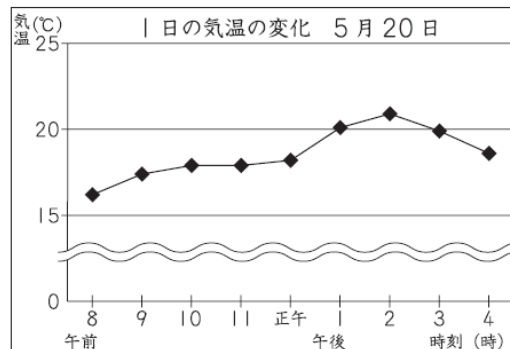


綿のような雲が見られた。

**3**

(5) 三郎さんは、同じ日に気温をはかりました。

この日のかげのようすから 1 日の天気を考えると、気温の変化を表したグラフはどれですか。下の **1** から **4** までの中から 1 つ選んで、その番号を書きましょう。また、その番号を選んだわけを書きましょう。

**1****2****3****4**

番号 **4**

### 選んだわけ

(例) 午前 10 時から正午前まではくもって、気温はあまり変わらないが、それ以外の気温は晴れていたのに気温は上がるから。